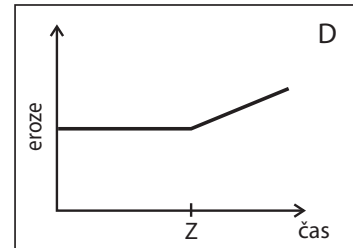
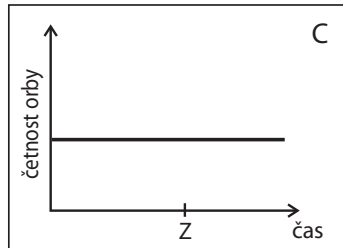
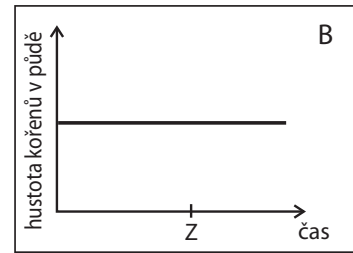
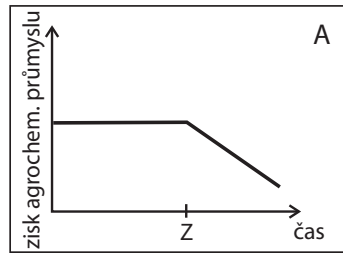


OTÁZKA 4: **JEDNOLETÉ A VYTRVALÉ ROSTLINY**

Zakroužkujte graf znázorňující situaci, která nastane, jestliže se v budoucnu začnou ve větší míře pěstovat kříženci jednoletých a vytrvalých rostlin. Z = počátek šíření nově křížených rostlin.



Obrázek 2: Grafické znázornění možností, které mohou nastat pěstováním nově křížených rostlin
(Pozn.: Z = počátek šíření nově křížených rostlin)