


Který z těchto živočichů je savec?

(A)




ještěrka

(B)




tučňák

(C)



jelen

(D)



žralok

S051041

Když Petra běhá, dochází v jejím těle ke změnám. Jednou z nich je, že jí začne být velké horko.

Napiš další dvě změny, kterých si Petra může všimnout.

1.

2.

S051037