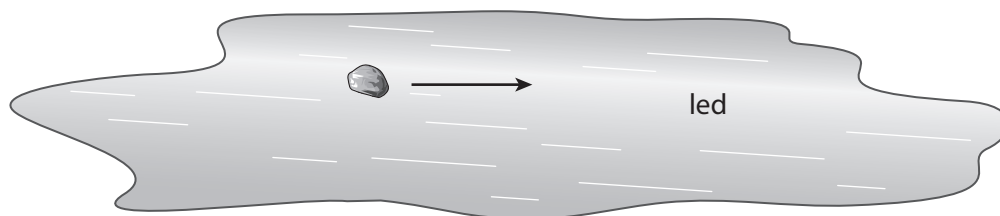









Na obrázku je znázorněn hladký kámen, který klouže po ledu ve směru šipky.



A. Kterým směrem by měl Láďa působit silou, pokud chce, aby se kámen pohyboval opačným směrem po stejné čáře?

- (A) 
- (B) 
- (C) 
- (D) 

B. Kámen klouže ve směru šipky a Láďa chce změnit směr jeho pohybu. Kterým směrem by měl Láďa působit silou, aby se kámen pohyboval šikmo doprava dolů?

- (A) 
- (B) 
- (C) 
- (D) 