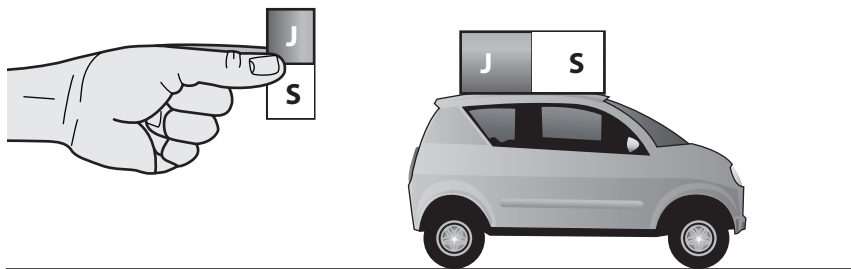


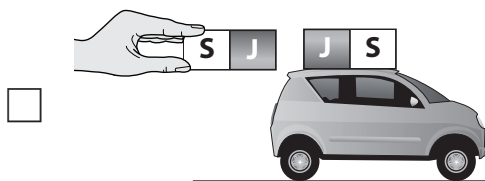
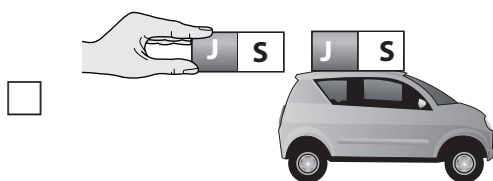


Na střechu plastového autíčka byl nalepen magnet. Sára chce autíčko posunout dopředu pomocí dalšího magnetu.



Kterým způsobem by měla držet magnet, aby autíčko posunula dopředu?

(Zaškrtni jeden čtvereček.)



Vysvětli svou odpověď.