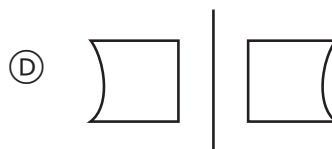
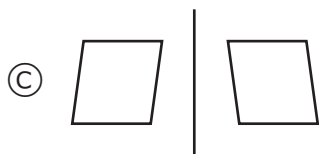
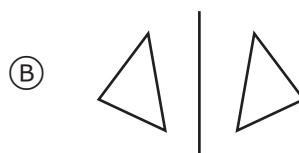
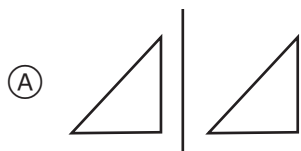


Tato zeď je postavená z 9 řad cihel. Zeď je 180 cm vysoká. Jak vysoká by byla zeď postavená ze 4 řad cihel?

- (A) 40 cm
- (B) 80 cm
- (C) 100 cm
- (D) 140 cm

M041048

Na kterém obrázku NENÍ geometrický útvar a jeho zrcadlový obraz?



M041169