






## Úloha P4 (S02\_03)

Kterí živočichové na obrázku mají páteř?

Vybarvi jeden kroužek u **každého** živočicha. Jednu odpověď jsme vybrali za tebe.

| Živočich   | Má páteř                         |                       |
|--|----------------------------------|-----------------------|
|  | Ano                              | Ne                    |
| <br>volavka | <input checked="" type="radio"/> | <input type="radio"/> |
| <br>pavouk  | <input type="radio"/>            | <input type="radio"/> |
| <br>krab    | <input type="radio"/>            | <input type="radio"/> |
| <br>ryba   | <input type="radio"/>            | <input type="radio"/> |
| <br>lev   | <input type="radio"/>            | <input type="radio"/> |

**Cíl úlohy:** Porovnat typické tělesné vlastnosti a způsoby chování hlavních skupin organismů a uvést rozdíly mezi nimi; rozpoznat nebo uvést příklady zvířat a rostlin náležících do těchto skupin

**Dovednost:** Používání znalostí

**Obtížnost:** 3

| Úspěšnost (%)             | Celkem | Dívky | Chlapci |
|---------------------------|--------|-------|---------|
| Česká republika (2007)    |        |       |         |
| Česká republika (2011)    | 55,3   | 48,0  | 62,3    |
| Mezinárodní průměr (2011) | 40,9   | 39,6  | 42,3    |

Hodnocení

Kód 10 (správná odpověď) byl přidělen v případě vybarvení kroužků pro všechny živočichy v pořadí A, B, B, A, A.