



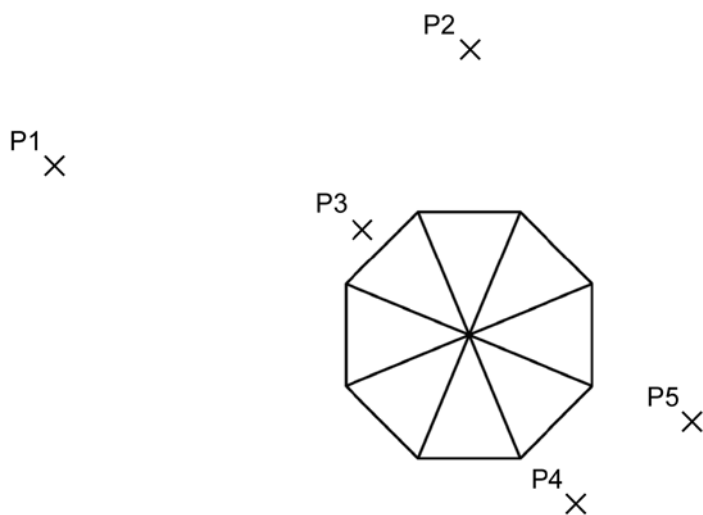
**Otázka 10.1 POHLED NA VĚŽ**

Na obrázcích 1 a 2 jsou dva nákresy **téže** věže. Na obrázku 1 vidíme **tři** stěny střechy věže. Na obrázku 2 vidíme **čtyři** stěny.



Na dalším obrázku je pohled na střechu věže shora. Je tam také zakresleno pět pozic. Jsou označeny křížkem (×) a pojmenovány P1 – P5.

Z každé z těchto pozic může pozorovatel vidět určitý počet stěn střechy věže.



Zakroužkuj v tabulce počet stěn, které jsou vidět z každé této pozice.

Pozice	Počet stěn viditelných z této pozice (zakroužkuj správné číslo)
P1	1 2 3 4 více než 4
P2	1 2 3 4 více než 4
P3	1 2 3 4 více než 4
P4	1 2 3 4 více než 4
P5	1 2 3 4 více než 4