


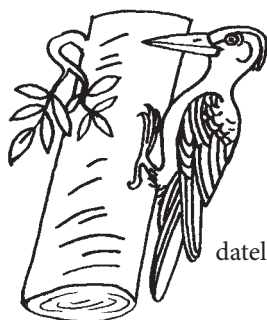
6 ŽIVÁ PŘÍRODA

6.1 EKOSYSTÉMY


- 6.1.1 Na obrázcích jsou živočichové společenstva les. Vyber dva živočichy a napiš, jaká je mezi nimi potravní vazba.



prase divoké



datel



lýkožrout



zmije

.....

.....

.....

✕ ----- ↓ PŘED KOPÍROVÁNÍM PRO ŽÁKY OD TOHOTO MÍSTA ZAKRÝT ↓ ----- ✕

Správná odpověď: lýkožrout je potravou pro datla, zmije může být potravou pro prase divoké

Komentář: Ke správnému zodpovězení otázky žák musí zvládat učivo o ekosystému les a o točích energie (potravních vazbách) v tomto ekosystému. Lýkožrout se může stát potravou prasete jen omylem, je potravou pro datla. Zmije má spoustu nepřátel, mezi které patří prase divoké, které umí zmiji ulovit. Mylnou představu mají žáci o zmiji, o které si myslí, že je na vrcholu potravní pyramidy.

.....

- 6.1.2 V blízkosti jedné obce vykácela dřevařská firma les, po lese zbyla paseka. Kterí živočichové přišli o své přirozené životní prostředí?

- A) bažant a sysel
- B) užovka a ropucha
- C) ovce a pes
- D) liška a jelen

✕ ----- ↓ PŘED KOPÍROVÁNÍM PRO ŽÁKY OD TOHOTO MÍSTA ZAKRÝT ↓ ----- ✕

Správná odpověď: D)

Typické nesprávné odpovědi: A), B) Děti někdy obecně rozlišují zvířata jen na domácí a volně žijící, přičemž druhá skupina jim může splývat s pojmem „lesní“, přestože jejich životním prostředím je pole nebo okolí vodních ploch.