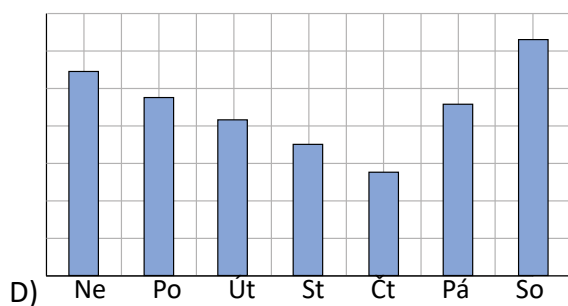
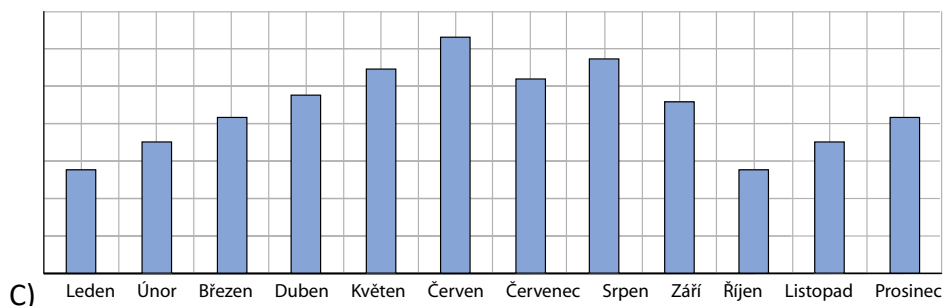
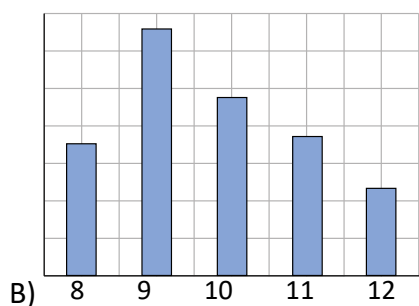
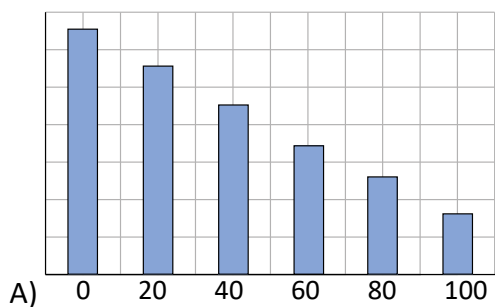


Úloha M66 (M07-12)

Radek dělal průzkum, kolik žáků se během jednoho týdne dívalo každý večer na televizi. **Který diagram by mohl zobrazovat výsledky Radkova průzkumu?**



Cíl úlohy: Čtení a porovnání údajů ze sloupcových a z kruhových diagramů

Dovednost: Uvažování

Obtížnost: 2