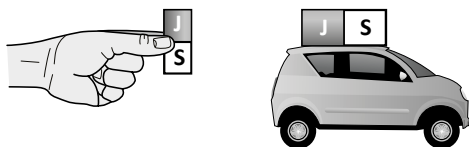



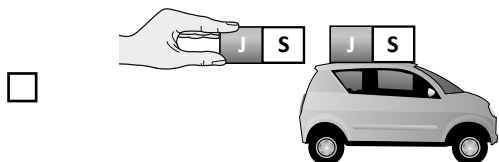
Úloha P39 (S02-06)

Na střechu plastového autíčka byl nalepen magnet. Sára chce autíčko posunout dopředu pomocí dalšího magnetu.



Kterým způsobem by měla držet magnet, aby autíčko posunula dopředu?

(Zaškrtni jeden čtvereček.)



Vysvětli svou odpověď.

Cíl úlohy: Rozpoznat, že magnety mají severní a jižní pól a že se stejné póly odpuzují a opačné přitahují

Dovednost: Používání znalostí

Obtížnost: 4

Úspěšnost (%)	Celkem	Dívky	Chlapci
Česká republika (2015)	21,6	18,1	29,8
Mezinárodní průměr (2015)	29,8	28,8	30,7